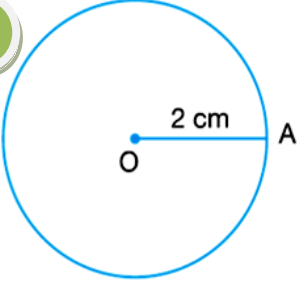


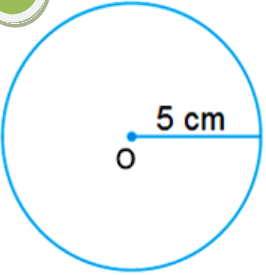
1



Yarıçap uzunluğu 2 cm olan bir çemberin çevresi kaç cm dir? ($\pi = 3$)

- A) 11 B) 12
C) 15 D) 18

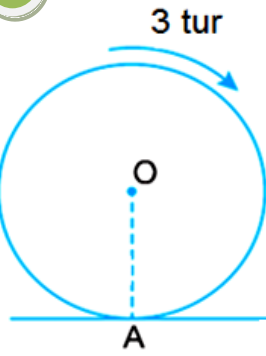
2



Yarıçap uzunluğu 5 cm olan bir çemberin çevresi kaç cm dir? ($\pi = 3$)

- A) 20 B) 25
C) 30 D) 35

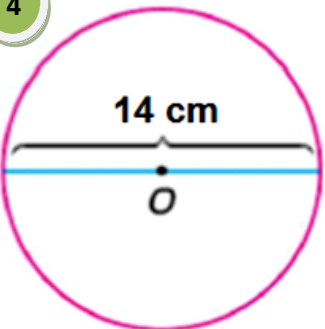
3



Yanda verilen çember 3 tam tur döndüğünde 108 metre yol almıştır. Buna göre yarıçapı kaç metre dir? ($\pi = 3$)

- A) 9 B) 8 C) 7 D) 6


4



Çap uzunluğu 14 cm olan çemberin çevresi kaç cm dir? ($\pi = \frac{22}{7}$)

- A) 44 B) 42
C) 40 D) 35

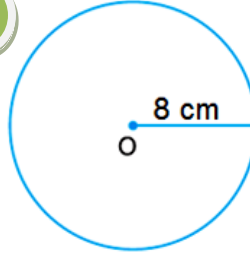
5



Yarıçap uzunluğu 1 cm olan bir madeni para bir tam tur döndüğünde hangi sayıda durur ($\pi = 3,14$)

- A) 5 B) 6 C) 6 ile 7 arası D) 7 ile 8 arası

6



Yarıçap uzunluğu 8 cm olan bir çemberin çevresi kaç cm dir? ($\pi = 3,14$)

- A) 46,24 B) 48,32
C) 49,62 D) 50,24

7

Çevresinin uzunluğu 60 cm olan bir çemberin yarıçapı kaç cm dir? ($\pi = 3$)

- A) 12 B) 10 C) 8 D) 6

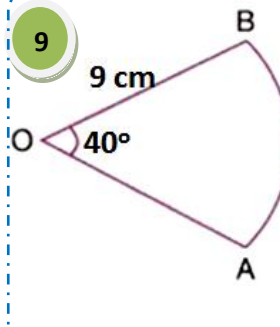
8

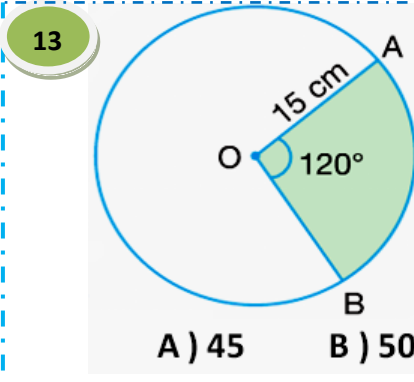


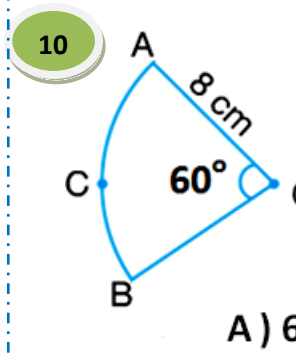
Bir koşucu yarıçapı 30 m olan dairesel bir pistin etrafında 2 tur koşuyor.

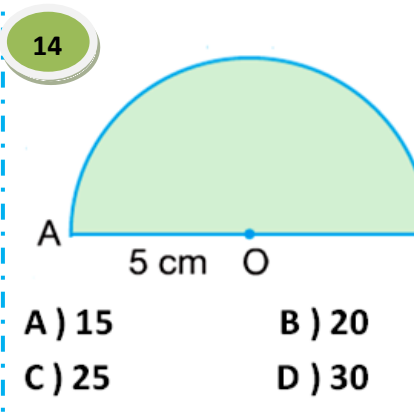
Buna göre, koşucu kaç m koşmuştur? ($\pi = 3$ alınız.)

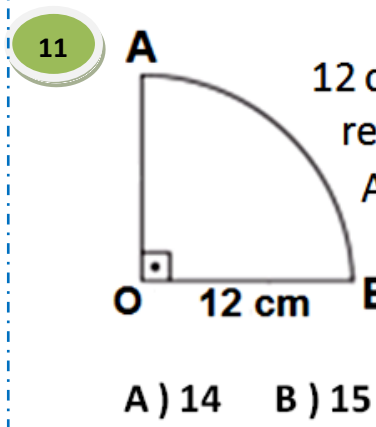
- A) 180 B) 240 C) 360 D) 420

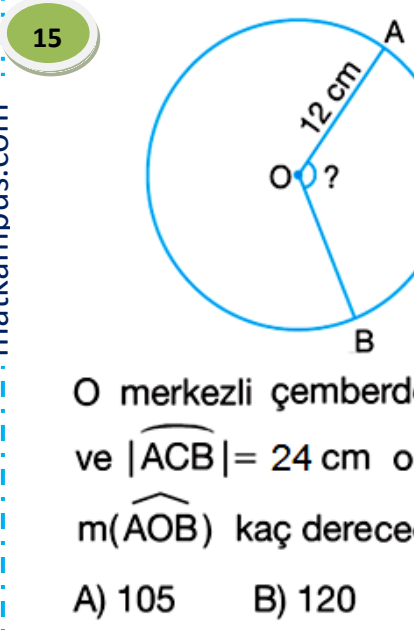
9  O merkezli çemberde AB yayının uzunluğu kaç cm dir? ($\pi = 3$ alınız.)
A) 4 B) 6
C) 8 D) 9

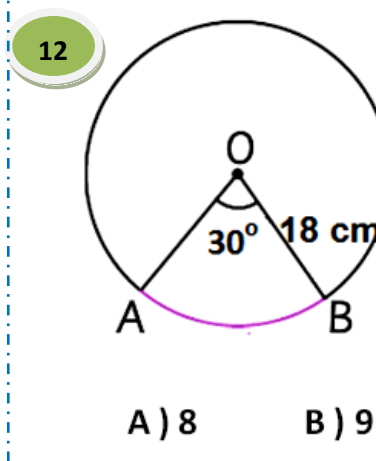
13  15 cm yarıçaplı çemberde taralı bölgenin çevresi kaç cm dir? ($\pi = 3$)
A) 45 B) 50 C) 55 D) 60

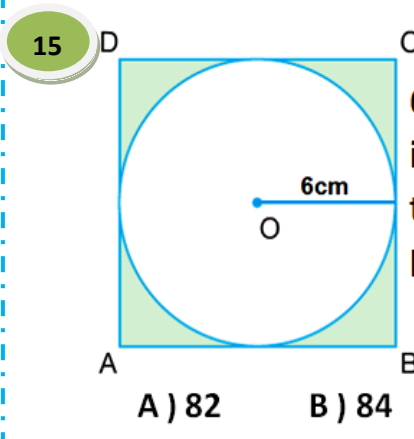
10  yarıçapı 8 cm olan çemberin 60° lik açıyla kesilen parçasının uzunluğu kaç cm dir? ($\pi = 3$)
A) 6 B) 7 C) 8 D) 9

14  5 cm yarıçaplı yarım çemberde taralı bölgenin çevresi kaç cm dir? ($\pi = 3$)
A) 15 B) 20
C) 25 D) 30

11  12 cm yarıçaplı çeyrek çemberde AB yayının uzunluğu kaç cm dir? ($\pi = 3$)
A) 14 B) 15 C) 16 D) 18

15  O merkezli çemberde $|OA| = 12$ cm ve $|\widehat{ACB}| = 24$ cm olduğuna göre, $m(\widehat{AOB})$ kaç derecedir? ($\pi = 3$ alınız.)
A) 105 B) 120 C) 135 D) 150

12  18 cm yarıçaplı çemberde 30° lik açıyla kesilen AB yayının uzunluğu kaç cm dir? ($\pi = 3$)
A) 8 B) 9 C) 10 D) 12

15  6 cm yarıçaplı, kare içine çizilmiş çemberde taralı bölgenin çevresi kaç cm dir? ($\pi = 3$)
A) 82 B) 84 C) 86 D) 88

matkampus.com