

1 Aşağıdakilerden hangisi 1 Litreye eşittir?

- A) 10 cL
B) 1 dm³
C) 100 mL
D) 1000 dL

2 Bir çocuk her gün 250 mL süt içerse 16 günde kaç litre süt içmiş olur?

- A) 2 B) 3 C) 4 D) 5

3 Bir tenekede 18 L zeytinyağı vardır. Zeytinyağının tamamı 600 mL'lik şişelere doldurularak şişesi 12 TL'den satılmıştır.

Buna göre ; zeytinyağının tamamının satışından kaç TL kazanç elde edilmiştir?

- A) 270 B) 300 C) 320 D) 360

4 Yandaki sürahi 1,8 Litre su almaktadır. Bu sürahiyi 150 mL lik bardakla kaç seferde doldurulabilir?

- A) 12 B) 13 C) 14 D) 15

5 19 litrelik bir damacanadan 95 pet bardak su içilebilmektedir. Buna göre her bir bardağın ölçüsü kaç cL dir?



- A) 15 B) 20 C) 25 D) 30

6 Aşağıdaki bilgilerden hangisi yanlıştır?

- A) 12 dL = 120 cL
B) 2500 mL = 25 dL
C) 3,5 L = 350 mL
D) 500 cL = 5 dm³

7 3m³ su alan bir depo günde 75 litre harcayan bir aileye kaç gün yeter?



- A) 25 B) 30 C) 35 D) 40

8 Bir arıtma tesisinde 1 Litre deniz suyundan 25 cL saf su elde edilmektedir.

Bu bilgiye göre; 100 litre deniz suyundan kaç mL saf su elde edilebilir?

- A) 2,5 B) 250 C) 2500 D) 25000

9



150 Litrelik yağ deposu her birisi 2000 cm^3 olan şişelere doldurulacaktır. Bunun için kaç adet şişeye ihtiyaç vardır?

- A) 70 B) 75 C) 80 D) 85

10

Bir aşçı hazırlayacağı salata sosu için 2 litre zeytinyağı ,3 litre limon suyu ve 0,5 litre sirkeyi karıştırıyor . Buna göre bu karışım toplam kaç cL dir?

- A) 650 B) 550 C) 100,5 D) 50,5


11



Yukarıda 8 litre ve 4 adet 500 mL lik suları ölçüsü 75 cL olan bardakla tam dolu olarak içildiğinde geriye kaç mL su artmış olur?

- A) 100 B) 150 C) 200 D) 250

12

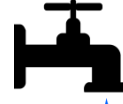


330 ml

Melih , arkadaşlarıyla maçıtan sonra marketten tanesi 1,25 TL olan 330 mL lik kutu meyve sularından almış ve 7,50 TL ödemiştir. Buna göre toplamda kaç litre meyve suyu içmişlerdir?

- A) 1,65 B) 1,98 C) 2,31 D) 2,64

13

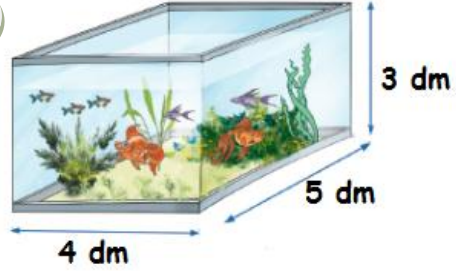


0,05 mL

Bir damla su yaklaşık olarak 0,05 mL dir. Bozuk bir musluktan bir saniye de bir damla su boşa akmaktadır. Buna göre bir gün boyunca bu şekilde damlayan bir musluktan kaç litre su boşa akmış olur?

- A) 4,12 B) 4,24 C) 4,32 D) 4,46

14

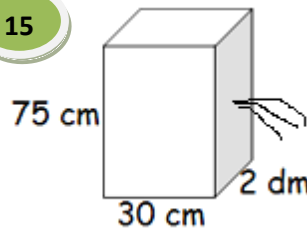


2,5 dL

Yukarıda ölçüleri verilen bir akvaryumun tamamı su ile doldurmak için hacmi 2,5 dL su alan bir maşrapa ile tam dolu olarak kaç defa su boşaltılmıştır?

- A) 240 B) 260 C) 270 D) 280

15



Yanda ölçüleri verilen dikdörtgen prizma şeklindeki metal bir kabın tamamı dolacak şekilde su ile dolduruyor.

Daha sonra bu kabın herhangi bir noktasından delik açılıyor ve 30 litre su boşalıyor ve su akışı duruyor buna göre bu delik yerden kaç cm lik mesafede açılmıştır?

- A) 10 B) 15 C) 20 D) 25